

O-1



T

T.C.
MİLLÎ EĞİTİM BAKANLIĞI
ÖLÇME, DEĞERLENDİRME VE SINAV HİZMETLERİ
GENEL MÜDÜRLÜĞÜ

AÇIK ÖĞRETİM ORTAOKULU
2013-2014 ÖĞRETİM YILI 3. DÖNEM SINAVI
1. OTURUM: 15 HAZİRAN 2014 Saat: 10.00

<u>DERSLER</u>	<u>SAYFA</u>	<u>DERSLER</u>	<u>SAYFA</u>
(501) TÜRKÇE – 5	2	(701) TÜRKÇE – 7	18
(502) MATEMATİK – 5	4	(702) MATEMATİK – 7	19
(503) FEN VE TEKNOLOJİ – 5	6	(703) FEN VE TEKNOLOJİ – 7	22
(604) SOSYAL BİLGİLER – 6	9	(806) TC İNK. TAR. VE ATATÜRK. – 8	24
(607) İNGİLİZCE – 6	11	(807) İNGİLİZCE – 8	26
(607) ALMANCA – 6	12	(807) ALMANCA – 8	27
(607) FRANSIZCA – 6	15	(807) FRANSIZCA – 8	29
(608) DİN KÜL. VE AHLAK BİLGİSİ – 6	16	(808) DİN KÜL. VE AHLAK BİLGİSİ – 8	30

ADAYLARIN DİKKATİNE!

- Her ders için **20** soru bulunmaktadır. Bu oturumda **150** dakikalık cevaplama süreniz vardır. Sınav başladıktan sonra ilk **30** dakika dolmadan dışarı çıkmayınız.
- Sınav sırasında sözlük, hesap cetveli veya makinesi, çağrı cihazı, cep telefonu, telsiz, radyo gibi elektronik iletişim araçlarını yanınızda bulundurmuyunuz. Bu araçları kullanmanız ve kopya çekmeye teşebbüs etmeniz hâlinde sınavınız geçersiz sayılacaktır.
- Başvuru şartlarını taşımadığınız hâlde sınava girmeniz, kopya çekmeniz, başka adayın sınav evrakını kullanmanız, geçerli kimlik belgenizi ve sınav giriş belgenizi ibraz edemediğiniz durumlarda sınavınız geçersiz sayılacaktır.
- Sınavın değerlendirilmesi aşamasında, bilgisayar ortamında yapılan kopya analizinde ikili veya toplu kopya tespiti hâlinde sınavınız geçersiz sayılacaktır.

CEVAP KÂĞIDI VE SORU KİTAPÇIĞI İLE İLGİLİ AÇIKLAMALAR

- Cevap kâğıdınızdaki bilgilerin doğruluğunu kontrol ediniz ve cevap kâğıdınızı mürekkepli kalemle imzalayınız.
- Cevap kâğıdı üzerinde kodlamalarınızı kurşun kalemle yapınız.
- Değiştirmek istediğiniz bir cevabı, yumuşak silgiyle cevap kâğıdını örselemeden temizce siliniz ve yeni cevabınızı kodlayınız.
- Soru kitapçığının sayfalarını kontrol ediniz, baskı hatası var ise değiştirilmesini sağlayınız.
- Soruların çözümü için size ayrıca boş kâğıt verilmeyecektir. Soru kitapçığının içindeki boş alanları soru çözümleri için kullanabilirsiniz.
- Her sorunun dört seçeneğinden sadece biri doğrudur. Doğru seçeneği, cevap kâğıdınızın ilgili sütununa soru numarasını dikkate alarak yuvarlağın dışına taşırmadan kodlayınız. **Soru kitapçığı üzerinde yapılan cevaplandırmalar dikkate alınmayacaktır.**
- Cevaplamaya istediğiniz dersin sorusundan başlayabilirsiniz. Cevabını bilmediğiniz sorular üzerinde fazla zaman kaybetmeden diğer sorulara geçiniz. Zamanınız kalırsa bu sorulara daha sonra dönebilirsiniz.
- Yanlış cevaplarınız dikkate alınmadan sadece doğru cevaplarınız üzerinden puanlama yapılacaktır.
- Soruları ve sorulara verdiğiniz cevapları, yanınızda götürmek amacıyla kaydetmeyiniz; hiçbir şekilde dışarı çıkarmayınız.
- Sınav bitiminde, soru kitapçığı ve cevap kâğıdını salon görevlilerine teslim ediniz.**

BAŞLAYINIZ DENİLMEYEN SORU KİTAPÇIĞINI AÇMAYINIZ.

1. OTURUM

(501) TÜRKÇE – 5

1. “Kısa-uzun” kelimeleri arasındaki anlam ilişkisi aşağıdakilerin hangisinde vardır?

- A) Şehir-kent B) Yaşam-hayat
C) Cevap-yanıt D) Acı-tatlı

2. Aşağıdaki kelimeler alfabetik sıraya göre dizildiğinde hangisi, 1. sırada yer alır?

- A) Bakımlı B) Bakırcı
C) Bakıcı D) Bakış

3. “Sıcak” sözcüğü aşağıdakilerin hangisinde mecaz anlamıyla kullanılmıştır?

- A) Sıcak bir yuva kurmayı hayal ediyorum.
B) Kız kardeşim bana sıcak bir çorba içirdi.
C) Bu sıcakta bir şeyler içmeden çalışmıyorum.
D) Burası bir kazan dairesi kadar sıcaktı.

4. “Şaşırarak, telaşlanarak” anlamında kullanılan deyim aşağıdakilerden hangisidir?

- A) Ayakaltında dolaşmak
B) Eli ayağına dolaşmak
C) Ağızdan ağıza dolaşmak
D) Kapı kapı dolaşmak

5. Aşağıdaki cümlelerin hangisinde karşılaştırma vardır?

- A) Benim okuduğum kitap seninkinden daha kalın.
B) Çocuklar parkta neşeyle oynuyorlar.
C) Eve gitmeden sana bir çanta alalım.
D) Bu problemi okula gelmeden çözdüm.

6. Aşağıdaki cümlelerin hangisinde duygusal bir öge vardır?

- A) Adamlar oraya buraya dağıldı.
B) Aldığı hediyeyi görünce çok sevindim.
C) Yorgun olduğunu söyleyip eve gitti.
D) Çocuklar bahçede oynamaya başladı.

7. 1. insanlara
2. davran
3. samimi
4. bütün
5. karşı

Numaralandırılmış sözcükler, anlamlı ve kurallı bir cümle oluşturmak için nasıl sıralanmalıdır?

- A) 1, 5, 2, 3, 4 B) 3, 5, 1, 4, 2
C) 4, 1, 5, 3, 2 D) 5, 2, 1, 3, 4

8. “Gönül alıcı, okşayıcı sözlerle karşımızdakinin inadı yenilebilir.”

Bu açıklamaya uygun atasözü aşağıdakilerden hangisidir?

- A) Tatlı dil yılanı deliğinden çıkarır.
B) Can candan tatlıdır.
C) Sabır acıdır, meyvesi tatlıdır.
D) Bedava sirke baldan tatlıdır.

9. “Haftaya tatile gideceğim.” cümlesinde aşağıdaki sorulardan hangisinin cevabı vardır?

- A) Niçin? B) Ne zaman?
C) Nasıl? D) Nerede?

10. Renkli kalemlerimin çantamın içinde olduğunu biliyorum ... bir türlü bulamıyorum.

Bu cümlede üç nokta ile belirtilen yere, düşüncenin farklılaşmasına göre aşağıdakilerden hangisi getirilmelidir?

- A) için B) çünkü
C) kadar D) ama

11. Aşağıdaki cümlelerin hangisinde sebep-sonuç ilişkisi vardır?

- A) Sonbahar en sevdiğim mevsimdir.
B) Uçaktan korktuğu için otobüsle gitti.
C) Romanı okumuş gibi anlatıyordu.
D) Bu problemi ancak sen çözebilirsin.

1. OTURUM

12. Yıka taşları toprakları
Şarıl şarıl,
Tarlalar buğday bekler senden, çocuklar ekmek
Dünyanın da yüzü yıkanmak gerek
Şair, bu dizelerde aşağıdakilerden hangisine seslenmektedir?
- A) Yağmur B) Toprak
C) Güneş D) Rüzgâr
13. 1. O kervandakilerden bir adamcağızın çocuğu kayboldu.
2. Çocuğu kaybolan adamcağız, gecenin karanlığı içinde, kervan ahalisi arasında dönüp duruyordu.
3. Bir kervan, bir konak yerine kondu.
4. Nihayet gecenin karanlığı içinde çocuğunu buldu.
5. Kervandaki her çadıra gidiyor, herkesten çocuğunu soruyordu.
Numaralandırılmış cümleler, olayların oluş sırasına göre nasıl sıralanmalıdır?
- A) 3, 4, 5, 2, 1 B) 4, 1, 3, 2, 5
C) 3, 1, 2, 5, 4 D) 4, 3, 5, 2, 1
14. Ay yıldızın sinende,
Elmas gibi ne parlak!
Yüksel, yüksel göklere,
Ey sevimli al bayrak.
Bu şiirin ana duygusu aşağıdakilerden hangisidir?
- A) Doğa sevgisi B) Memleket özlemi
C) Yaşama sevinci D) Bayrak sevgisi
15. Mektubun çok geniş bir kullanım alanı vardır. Eskiden beri devletler arası ilişkilerden, devlet merkeziyle taşranın haberleşmesine ve kişiler arasındaki alışverişe kadar pek çok alanda kullanılmıştır. Aileler, dostlar, arkadaşlar arasındaki iletişim yakın zamana kadar mektupla olmuştur.
Bu parçada mektupla ilgili olarak aşağıdakilerin hangisine değinilmemiştir?
- A) Çok geniş bir kullanım alanı olduğuna
B) Günümüzde haberleşmeyi kolaylaştırdığına
C) Arkadaşlar arasında iletişim sağladığına
D) Yakın zamana kadar kullanıldığına
16. Aşağıdaki sözcüklerden hangisi aldığı ekten dolayı yeni bir anlam kazanmamıştır?
- A) Akıllı B) Çiçekler C) Kitaplık D) Simitçi
17. Aşağıdaki altı çizili sözcüklerden hangisi “devam eden bir eylem”i ifade eder?
- A) Tatilden bu pazartesi döndü.
B) Yarın akşam yola çıkacağız.
C) Sabahtan beri seni bekliyorum.
D) Arkadaşının geleceğini dün akşam öğrenmiş.
18. Sallansın dalların çocuklar gibi
Bakma güneş ısıtsın varsın
Küçük zerdali ağacım,
Sonra donarsın.
Bu şiirdeki altı çizili sözcüklerden hangisi, bir varlığı nitelemiştir?
- A) Sallansın B) Güneş
C) Küçük D) Donarsın
19. Aşağıdaki cümlelerin hangisinde “-mı / -mi” nin yazımıyla ilgili bir yanlışlık yapılmıştır?
- A) Bu küçük kız sizin kızınız mı?
B) Yarışta sizin çocuk mu birinci olmuş?
C) Dün izlediğin film güzel mi?
D) Bu akşam benmi size geleyim?
20. “Eşi kaybolmuş ayakkabı bağcıkları, eski faturalar, teneke kutular, oyuncak bebekler()”
Bu cümlede yay ayraçla belirtilen yere, aşağıdaki noktalama işaretlerinden hangisi getirilmelidir?
- A) (...) B) (:) C) (!) D) (;)

1. OTURUM

(502) MATEMATİK – 5

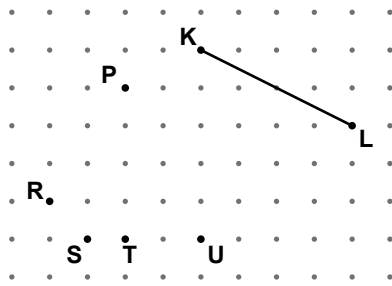
1. 46 078 705 sayısının on binler basamağındaki rakam aşağıdakilerden hangisidir?

- A) 0 B) 4 C) 7 D) 8

2. 429×602 işleminin sonucu aşağıdakilerden hangisidir?

- A) 25 588 B) 26 598
C) 248 258 D) 258 258

3.



Noktalı kağıt üzerinde verilen doğru parçası ve noktalara göre, KL doğru parçasına eşit uzunlukta bir doğru parçası çizilecektir. Doğru parçasının bir uç noktası P olduğuna göre, diğer uç noktası aşağıdakilerden hangisi olmalıdır?

- A) R B) S C) T D) U

4. Bir bölme işleminde bölen 17, bölüm 15'tir. Bu bölme işleminde bölünenin en büyük doğal sayı değeri kaçtır?

- A) 256 B) 265 C) 271 D) 272

5. Haftalık harçlığının yarısını biriktiren Serap, 5 hafta sonunda biriktirdiği para ile istediği elbiseyi satın alabilecektir. Serap'ın haftalık harçlığı 30 lira olduğuna göre, elbisenin fiyatı en çok kaç liradır?

- A) 60 B) 75 C) 80 D) 85

6. Dersler Öğrenci sayısı

Dersler	Öğrenci sayısı
Matematik	### ///
Fen ve Teknoloji	### ###
Türkçe	### ### ///
Sosyal Bilgiler	### //

5-A sınıfındaki öğrencilere, hangi dersten proje aldıkları sorularak yukarıdaki çetele tablosu oluşturulmuştur. Tabloya göre, 5-A sınıfının öğrenci mevcudu kaçtır?

- A) 33 B) 34 C) 38 D) 39

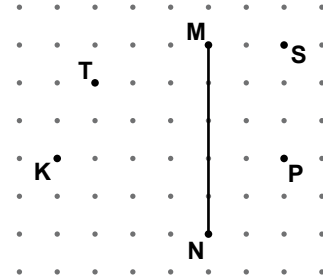
7. Aşağıdaki sıralamalardan hangisi doğrudur?

- A) $\frac{1}{15} > \frac{1}{45} > \frac{1}{75} > \frac{1}{150}$
B) $\frac{1}{45} > \frac{1}{75} > \frac{1}{15} > \frac{1}{150}$
C) $\frac{1}{150} > \frac{1}{75} > \frac{1}{45} > \frac{1}{15}$
D) $\frac{1}{15} > \frac{1}{150} > \frac{1}{75} > \frac{1}{45}$

8. Aşağıdaki kesirlerden hangisi $\frac{24}{36}$ kesrine denk bir kesir değildir?

- A) $\frac{1}{3}$ B) $\frac{4}{6}$ C) $\frac{8}{12}$ D) $\frac{12}{18}$

9.



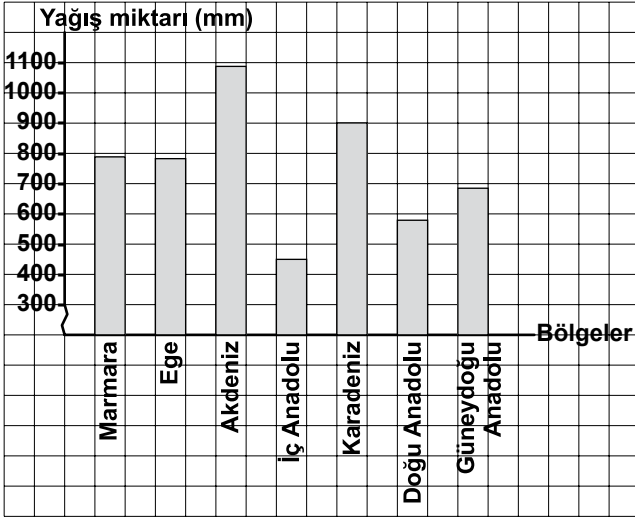
Şekle göre uç noktaları aşağıda verilen doğru parçalarından hangisi çizilirse MN doğru parçasına paralel olur?

- A) T ve S B) T ve K
C) K ve P D) S ve P

1. OTURUM

10. Aşağıdaki grafik 2012 yılında Türkiye’de bölgelere düşen yaklaşık yağış miktarlarını göstermektedir.

Grafik: Bölgelere Göre 2012 Yağış Miktarları



Grafiğe göre, hangi iki bölgeye düşen yağış miktarları farkı en azdır?

- A) Akdeniz - Karadeniz
B) İç Anadolu - Doğu Anadolu
C) Marmara - Güneydoğu Anadolu
D) Marmara - Ege

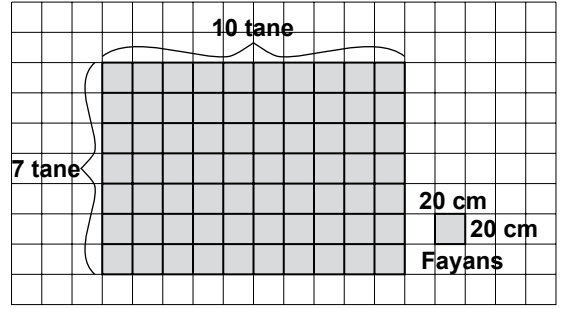
11. Tamamı dolu olan bir depodaki suyun birinci gün $\frac{3}{8}$ 'ü, ikinci gün $\frac{1}{2}$ 'i kullanılmıştır. İkinci günün sonunda deponun kaçta kaç su ile doludur?

- A) $\frac{1}{8}$ B) $\frac{2}{8}$ C) $\frac{3}{8}$ D) $\frac{5}{8}$

12. Aşağıdaki sıralamadan hangisi doğrudur?

- A) $4,38 < 7,05 < 7,032$
B) $7,05 < 7,032 < 4,38$
C) $4,38 < 7,032 < 7,05$
D) $7,032 < 4,38 < 7,05$

- 13.



Dikdörtgen şeklindeki bir mutfak tezgahının üst yüzeyi şekildeki gibi kare biçiminde fayanslarla döşenmiştir. Fayansın bir kenarının uzunluğu 20 cm olduğuna göre, tezgahın yüzeyi kaç metrekaredir?

- A) 1,7 B) 2,8 C) 3 D) 7

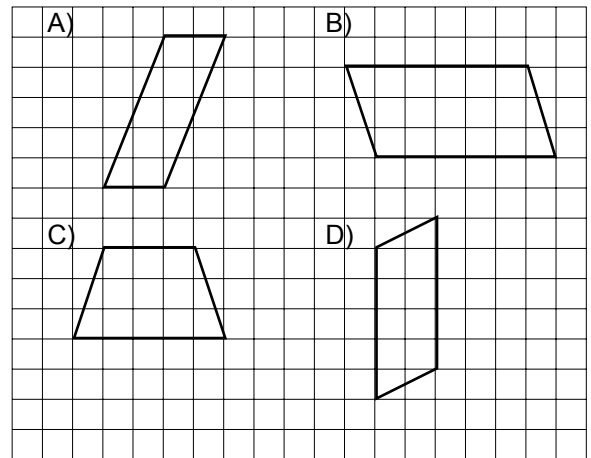
14. 174,7 litre sütün 108,95 litresi ile peynir, geri kalanı ile yoğurt yapılıyor. Yoğurt yapılan süt kaç litredir?

- A) 64,05 B) 65,75
C) 66,25 D) 67,15

15. 120 lirası olan Can, parasının % 60'ı ile kitap almıştır. Bu kitabı kaç liraya satın almıştır?

- A) 72 B) 60 C) 52 D) 40

16. Aşağıdaki şekillerden hangisi paralelkenar değildir?

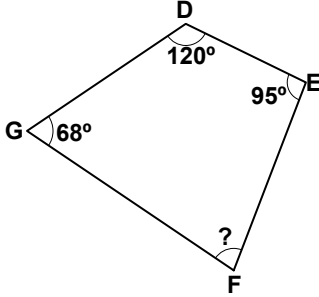


1. OTURUM

17. Bir uçak yerden 12 800 metre yükseklikte uçmaktadır. Bu uçağın yerden yüksekliği kaç kilometredir?

- A) 1,28 B) 12,8 C) 128 D) 1280

18.



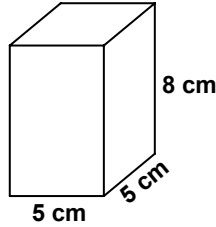
Şekildeki DEFG dörtgeninde $m(\widehat{DEF}) = 95^\circ$, $m(\widehat{GDE}) = 120^\circ$ ve $m(\widehat{FGD}) = 68^\circ$ olduğuna göre, $m(\widehat{EFG})$ kaç derecedir?

- A) 77 B) 79 C) 85 D) 89

19. 7 gün 21 saat kaç saattir?

- A) 28 B) 147 C) 189 D) 217

20. Şekil üzerinde ayrıtlarının uzunlukları verilen ilaç kutusunun yüzeyinin alanı kaç santimetrekaredir?



- A) 240 B) 210 C) 160 D) 150

(503) FEN VE TEKNOLOJİ – 5

1. Dinamometre ile ilgili;

I- Sıcaklık ölçer.

II- Kuvvetin büyüklüğünü ölçer.

III- Maddelerin esneklik özelliğinden yararlanılarak yapılmıştır.

İfadelerinden hangileri doğrudur?

- A) Yalnız I B) I ve II
C) II ve III D) I, II ve III

2. Sürtünme kuvvetinin etkisiyle ilgili aşağıdaki sloganlar hazırlanıyor.

I. Slogan

Kışın lastiğine zincir tak güvende ol.

II. Slogan

Araba kapılarını yağla, aşınmayı azalt.

III. Slogan

Bisiklete binmeden önce fren pabuçlarını kontrol et.

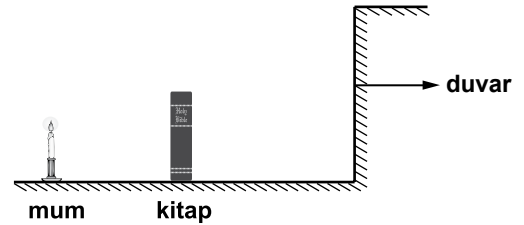
IV. Slogan

Kaymadan önce kayaklarına mum sür.

Buna göre, hangi sloganlarda sürtünme kuvvetinin azaltılmasından söz edilmektedir?

- A) I ve II B) II ve III
C) III ve IV D) II ve IV

3. Karanlık bir odada yanan mumun önüne şekildeki gibi kitap konularak duvar üzerinde tam gölge oluşturuluyor.



Buna göre, aşağıdaki işlemlerden hangisi tek başına yapılırsa tam gölgenin alanı büyür?

- A) Mum kitaptan uzaklaştırılırsa
B) Mum kitaba yaklaştırılırsa
C) Kitap duvara yaklaştırılırsa
D) Mum ile kitabın arasındaki uzaklık sabit kalacak şekilde mum ve kitap duvara yaklaştırılırsa

1. OTURUM

4. Aşağıdaki cisimlerin ışığı geçirgenlik durumlarına göre sınıflandırılması isteniyor.

Cisimler	Saydam	Yarı Saydam	Opak
Cam	①	②	③
Beton	④	⑤	⑥
Yağlı kağıt	⑦	⑧	⑨

Buna göre, numaralı yerlerden hangilerine işaret konulmalıdır?

- A) 1, 6, 8 B) 1, 6, 9
C) 2, 5, 9 D) 2, 5, 8

5. Ali, üç farklı ortamdaki sesin yayılıp yayılmadığını aşağıdaki gibi tarif etmiştir.

K ortamında ses yayılıyor.

L ortamında ses yayılmıyor.

M ortamında ses yayılıyor.

Buna göre, K, L ve M ortamları aşağıdakilerin hangisinde doğru verilmiştir?

<u>K</u>	<u>L</u>	<u>M</u>
A) Katı	Boşluk	Sıvı
B) Boşluk	Boşluk	Katı
C) Sıvı	Katı	Boşluk
D) Boşluk	Sıvı	Boşluk

6. Ampul, pil ve kablo kullanarak basit bir elektrik devresi kuruluyor. Daha sonra sadece pil sayısı değiştirilerek ilk durumdakine göre ampulün parlaklığı karşılaştırılıyor.

Buna göre, bağımlı değişken aşağıdakilerin hangisinde doğru verilmiştir?

- A) Pil sayısı B) Ampul parlaklığı
C) Ampul sayısı D) Kablo uzunluğu

7. Bir elektrik devresindeki devre elemanının sembolü aşağıdaki gibidir.



Buna göre, bu sembol hangi devre elemanına aittir?

- A) Anahtar B) Pil
C) Lamba D) Kablo

8. Bilim insanlarının yaptığı çalışmalarda;
I- Dünyanın oluşumundan itibaren hangi dönemlerden geçtiğini tesbit etme,
II- Kayaçların hangi zamana ait olduğunu bilme,
III- Nesli tükenmiş canlılar hakkında bilgi sahibi olma,

ifadelerinden hangileri fosillerden yararlanılarak gerçekleşir?

- A) Yalnız I B) I ve II
C) II ve III D) I, II ve III

9. Erozyon ve heyelanın oluşum nedenleri aşağıdaki gibi numaralandırılmıştır.

I- Anlık olarak meydana gelir.

II- Uzun bir zaman aralığında meydana gelir.

III- Aşırı ve şiddetli yağış durumlarında meydana gelir.

IV- Yağışın aşırı ve şiddetli olması gerekmez.

Buna göre, numaralar erozyon ve heyelan ile eşleştirilirse hangisi doğru olur?

<u>Erozyon</u>	<u>Heyelan</u>
A) I - III	II - IV
B) II - IV	I - III
C) I - II	III - IV
D) III - IV	I - II

10. Erimiş hâldeki dondurma buzdolabına konulduğunda tekrar katı hâle geliyor. Bu durum ile ilgili aşağıdakilerden hangisi doğrudur?

- A) Dondurma çevresinden ısı almıştır.
B) Dondurmanın sıcaklığı artmıştır.
C) Yoğuşma olayı gerçekleşmiştir.
D) Donma olayı gerçekleşmiştir.

1. OTURUM

11. Öğrencilerin, ısı ve sıcaklık kavramlarını kullanarak aşağıda verdikleri örneklerden hangisi doğrudur?

- A) Doktor, benim vücut ısıyı ölçtü.
- B) İzmir'de havanın sıcaklığı 30 °C ölçüldü.
- C) Odanın sıcaklığını kalorimetre ile ölçtüm.
- D) Beyaz çamaşırlar 50 °C ısıda yıkandı.
- Ali
- Burak
- Ceyda
- Derya

12. Ali, çayı çok sıcak olduğu için içmekte zorlanıyor. Bu nedenle çay bardağının içine bir miktar soğuk su ekliyor ve çayı kolaylıkla içebiliyor. Bu sonuca göre, aşağıdakilerden hangisi söylenebilir?

- A) Çayın sıcaklığı artmıştır.
- B) Soğuk su, sıcak çayı ısıtmıştır.
- C) Çaydan soğuk suya ısı akmıştır.
- D) Soğuk suyun sıcaklığı azalmıştır.

13. Zeynep hanım, cam konserve kavanozunun metal kapağını açabilmek için kavanozu ters çevirip sıcak su dolu kabın içinde bir süre bekletmiştir. Bu işlem sonucunda açılan kapakta aşağıdakilerden hangisi gerçekleşmiştir?

- A) Genleşme
- B) Yoğuşma
- C) Büzülme
- D) Donma

14. Aşağıdakilerden hangisi karbonhidratların özelliklerindedir?

- A) Sadece hayvanlardan elde edilme
- B) Vücuttaki tüm yaşamsal olayları düzenleme
- C) Vücut için gerekli enerjinin sağlanmasında öncelikle kullanılma
- D) Vücudun mikroplara karşı korunmasında en etkili besin grubu olma

15.

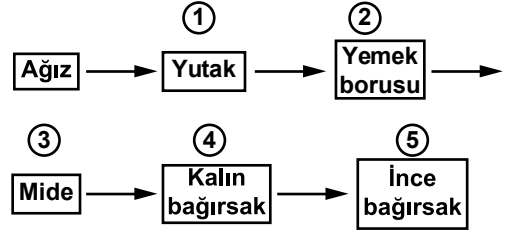
Yemek listesi

- 1- Mercimek çorbası
- 2- Domates çorbası
- 3- Peynirli makarna
- 4- Pirinç pilavı
- 5- Bulgur pilavı
- 6- Etlili taze fasulye
- 7- Patates kızartması
- 8- Salata
- 9- Baklava

Ahmet bey öğle yemeği için lokantaya gitmiştir. Verilen yemek listesinden kaç numaralı besinleri seçerse dengeli beslenmeye daha uygun olur?

- A) 2, 4, 6, 8
- B) 1, 3, 4, 7
- C) 4, 7, 8, 9
- D) 3, 5, 8, 9

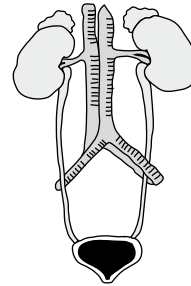
16.



Yukarıda sindirimde görevli yapı ve organlarımız karışık sıralanmıştır. Hangi numara ile gösterilen organlar yer değiştirirse, besinlerin sindirim sırasında geçtiği kısımlar doğru sıralanmış olur?

- A) 1 ve 2
- B) 2 ve 3
- C) 3 ve 5
- D) 4 ve 5

17.

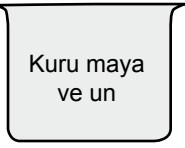
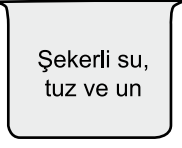


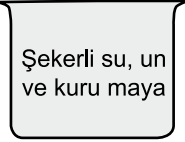
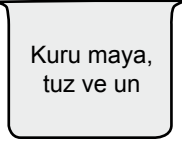
Şekilde vücudumuzda bulunan bazı yapı ve organlar verilmiştir. Aşağıdakilerden hangisi bu yapı ve organlarımız tarafından gerçekleştirilir?

- A) Sindirilen besinlerin faydalı kısımlarının emilmesi
- B) Kandaki atıkların süzülerek vücut dışına atılması
- C) Kandaki karbon dioksitin solunumla vücut dışına atılması
- D) Sindirim sırasında oluşan atıkların zararsız hale getirilmesi

1. OTURUM

18. Sevim hanım evde ekmek yapmak istiyor. Hamur hazırlarken, aşağıdaki kapların hangisindeki karışımı kullanırsa daha kabarık ekmek elde eder?

A)  B) 

C)  D) 

19. Tabloda ● ve ▲ şekilleri ile belirtilen canlıların özellikleri yazılmıştır.

Özellikler	Besinini kendisi yapar	Karada yaşar	Yer değiştirir
●	Evet	Evet	Hayır
▲	Hayır	Evet	Evet

Bu canlılar aşağıdakilerden hangisinde verilmiştir?

- ▲
- A) Fasulye bitkisi Fare
- B) Kelebek Papatya bitkisi
- C) Küf mantarı Kelebek
- D) Elma ağacı Papatya bitkisi

20. Çevreyi korumada aşağıdakilerden hangisi, her vatandaşın uygulayabileceği bir davranıştır?

- A) Metal ve plastik atıkları çeşitli işlemlerden geçirip tekrar kullanılacak hale getirme
- B) Kağıt, cam ve plastik atıkları ayrı çöp bidonlarına atma
- C) Sanayi tesislerine atıkları arıtıcı sistem kurma
- D) Tüm canlı türlerini koruma altına alma

(604) SOSYAL BİLGİLER – 6

1. Aşağıdakilerden hangisi trafik kazalarına sebep olan unsurlardan biri değildir?

- A) Yollar B) Yayalar
C) Trafik levhaları D) Araç arızaları

2. Jeotermal enerji santrallerinin yakıtı, aşağıdaki kaynaklardan hangisidir?

- A) Petrol B) Doğal gaz
C) Nükleer enerji D) Su buharı

- 3.

.....

Ben, Yıldız Mahallesi'nde oturan bir öğrenciyim. Mahallemizde ödevlerimi yapacak, boş zamanlarımı değerlendirecek bir kütüphane bulunmamaktadır.

Yıldız Mahallesi'ne bir kütüphane yapılmasını arz ederim.

Adres: Yıldız Mah.
Han Sok.
No:17/16

ISPARTA

13.05.2014
imza
Talha ERGİN

Bu dilekçe aşağıdaki kurumlardan hangisine verilmelidir?

- A) Belediyeye B) Başbakanlığa
C) İlçe emniyetine D) Okul müdürlüğüne

4. Dünyayı tam ortadan ikiye ayırdığı varsayılan paralel, aşağıdakilerden hangisidir?

- A) Meridyen B) Ekvator
C) Geoit D) Kutup

5. Aşağıdaki iklim tiplerinden hangisi "ılıman iklimler" kuşağında yer alır?

- A) Çöl B) Muson
C) Karasal D) Tropikal

1. OTURUM

6. I- Yazının İcadı
II- Kavimler Göçü
III- Hz. İsa'nın Ölümü

Yukarıdakilerden hangileri, milat öncesi dönemde yaşanmış olan gelişmelerdendir?

- A) Yalnız I
B) Yalnız II
C) I ve II
D) I ve III

7. Okul, tapınak, rasathane ve benzeri görevleri olan zigguratlar, aşağıdaki medeniyetlerden hangisine aittir?

- A) Urartulara
B) Lidyalılara
C) Hititlere
D) Sümerlere

8. Aşağıdakilerden hangisi Kavimler Göçü'nün sonuçlarından biri değildir?

- A) Yeni Çağ Dönemi başlamıştır.
B) Roma İmparatorluğu ikiye ayrılmıştır.
C) Avrupa'da "feodal" sistem güçlenmiştir.
D) Avrupa'nın siyasi ve etnik yapısı şekillenmiştir.

9. I- Çin baskı altında tutulacak.
II- Çin'de dağınık hâlde yaşayan Türkler, Türk yurduna geri getirilecek.
III- Asya'daki bütün Türk boyları Kök Türk bayrağı altında toplanacak.

Kök Türk devletinin politikasını bu üç temel üzerine kurgulayan Türk hükümdarı, aşağıdakilerden hangisidir?

- A) Bumin Kağan
B) Kapgan Kağan
C) Bilge Kağan
D) Mukan Kağan

10. Aşağıdakilerden hangisi Hz. Ebubekir Dönemi gelişmelerindendir?

- A) Adliye teşkilatının kurulması
B) Arapça'nın resmî dil ilan edilmesi
C) Kur'an-ı Kerim'in kitap hâline getirilmesi
D) İstanbul'un ilk defa İslam donanması tarafından kuşatılması

11. Aşağıdakilerden hangisi ilk Türk devletlerinde meclis için kullanılan kavramlardan biri değildir?

- A) Toy
B) Kut
C) Kengeş
D) Kurultay

12. Aşağıdaki ürünlerden hangisi baklagiller grubunda yer alır?

- A) Mısır
B) Arpa
C) Pirinç
D) Nohut

13. Atatürk, Türk milletinin geçmişini öğrenmesini ve tanımasını çok istiyordu.

Bu amaçla aşağıdaki kurumlardan hangisinin kurulmasına öncülük etmiştir?

- A) Türk Dil Kurumunun
B) İstanbul Üniversitesinin
C) Türk Tarih Kurumunun
D) Ankara Hukuk Fakültesinin

14. Doğal kaynakların bilinçli kullanılabilmesi için vatandaş olarak bizlere bazı görevler düşmektedir.

Aşağıdakilerden hangisi bu görevlerden biri değildir?

- A) Atık kağıtları sokağa değil, çöpe atmalıyız.
B) Piknik yerlerini bulduğumuz gibi temiz bırakmalıyız.
C) Bir ürünü alırken ambalajının geri dönüşümlü olmasına dikkat etmeliyiz.
D) Sağlığa zararlı kimyasal maddeler içeren temizlik ürünlerini tercih etmemeliyiz.

15. Gerek yurt içinde gerekse yurt dışında meydana gelen deprem sonrası arama ve kurtarma faaliyetlerine katılarak birçok insanı enkaz altından kurtaran kurum/kuruluş aşağıdakilerden hangisidir?

- A) AKUT
B) TİKA
C) TEMA
D) ÇEKÜL

1. OTURUM

16. I- Tarım
II- Kentleşme
III- Turizm
IV- Sanayileşme
- Verilenlerden hangileri hava kirliliğinin başlıca nedenlerindendir?

A) I ve II
B) II ve IV
C) III ve IV
D) I ve IV

17. Osmanlı Devleti'nde meşrutiyet dönemini başlatan padişah, aşağıdakilerden hangisidir?

A) II. Mahmut
B) III. Selim
C) IV. Murat
D) II. Abdülhamit

18. "Her Müslüman diğer Müslümanın kardeşidir. Bütün müminler kardeştir. Bir kimseye kardeşinin malı helal olmaz, sadece gönül rızasıyla verirse başka."

Bu cümlelerin kaynağı aşağıdakilerden hangisidir?

A) Veda Hutbesi
B) Fatih Kanunnamesi
C) Hammurabi Kanunları
D) İnsan Hakları Bildirgesi

19. Doğal çevre ile insan arasındaki ilişkileri inceleyen sosyal bilim dalı, aşağıdakilerden hangisidir?

A) Tarih
B) Coğrafya
C) Sosyoloji
D) Psikoloji

20. Cinsel ilişki, kan nakli, ortak kullanılan enjektör vb. yollarla geçer. Hastalık vücut bağışıklık sistemi ile ilgilidir ve hastalığa HIV virüsü neden olmaktadır.

Verilen bilgi aşağıdaki hastalıklardan hangisini anlatmaktadır?

A) Sıtma
B) Hepatit B
C) AIDS
D) Uyuz

(607) İNGİLİZCE – 6

1-20. sorularda boş bırakılan yere uygun gelen kelime ya da ifadeyi işaretleyiniz.

1. I'm an engineer Trabzon.

A) at
B) on
C) in
D) over

2. Two three equals five.

A) multiplied by
B) divided by
C) minus
D) plus

3. There is a of honey in the fridge.

A) pocket
B) loaf
C) jar
D) packet

4. have got a sports car.

A) I
B) She
C) Ali
D) Mete

5. We are English. names are John and Marry.

A) My
B) Our
C) His
D) Her

6. This is an

A) apple
B) desk
C) house
D) computer

7. These are noisy.

A) man
B) woman
C) children
D) person

8. Cem and Neslihan students.

A) was
B) is
C) am
D) are

9. She is from She is Italian.

A) Italy
B) Germany
C) Spain
D) Greece

1. OTURUM

10. A bird can't

- A) fly B) drive C) touch D) eat

11. The shop at 7 o'clock in the morning.

- A) hears B) arrives C) sleeps D) opens

12. I am my homework now.

- A) sitting B) washing C) doing D) eating

13. I like German.

- A) studying B) to study
C) studies D) study

14. Burcu : What is ?
Burak : It's an envelope.

- A) those B) these C) they D) this

15. Ahmet : are you from?
Aydın : I am from Izmir.

- A) What B) Where C) How D) Why

16. A: How much is this t-shirt?
B:

- A) It's nice. B) It's black.
C) It's ₺15 D) It's short.

17. A:
B: Two.

- A) How many pencils have you got?
B) Who has got a pencil?
C) What have you got?
D) Have you got a pencil?

18. Berkay :
Şule : I am 10.

- A) How are you? B) What are you?
C) Who are you? D) How old are you?

19. A: Hello! I'm Tom.
B: Hi! I'm Bülent.

- A) Pleased to meet you.
B) What is your name?
C) That is all right.
D) How are you?

20. A:
B: It's blue.

- A) How old are you?
B) What colour is it?
C) Where are you from?
D) What is your address?

(607) ALMANCA – 6

1-12. sorularda boş bırakılan yere uygun gelen kelime ya da ifadeyi işaretleyiniz.

1. Im Kino wir leise sein.

- A) müssen B) kann
C) darf D) musst

2. A: Guten Tag! Wer Sie?
B: Ich Anja Kaufmann.

- A) sein / bist B) sind / ist
C) ist / bist D) sind / bin

3. A:?
B: Danke,gut! Und dir?
A: Danke, auch gut!

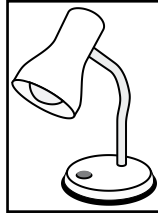
- A) Was machst du? B) Wie heißt du?
C) Wie geht es dir? D) Wo wohnt ihr?

4. A: wohnt Ali ?
B: Er wohnt Çankaya.

- A) Was / aus B) Wo / in
C) Wer / in D) Wie /aus

1. OTURUM

5. **A: Ist das ein Buch?**
B: Nein, das ist Buch.
Das ist Lampe.



- A) kein / eine B) keine / eine
C) ein / keine D) eine / kein

6. **A: Wie alt du ?**
B: Ich 14 Jahre alt.

- A) sein / bin B) ist / bin
C) sind / bist D) bist / bin

7. **A: Was möchten Sie?**
B: Ich möchte Salat, bitte.

- A) eine B) ein C) einen D) der

8. **A: Entschuldigung, ?**
B: Es ist drei Uhr.

- A) wie geht's B) was möchten Sie
C) wie spät ist es D) was ist das

9. **A: Wann stehst du auf?**
B: Ich um sieben Uhr

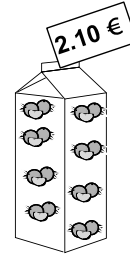
- A) stehe / auf B) stehst / auf
C) stehen / auf D) steht / auf

10. **A: Was ist das?**
B: Das ist



- A) ein Tisch B) ein Stuhl
C) ein Topf D) eine Kamera

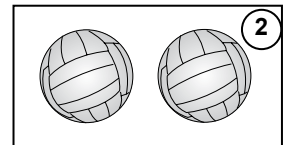
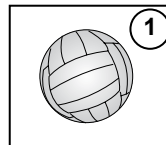
11.



- A: Was der Orangensaft?**
B:

- A) kosten / Zwei Euro
B) kosten / Zwei Euro zehn Cent
C) kostet / Zwanzig Euro
D) kostet / Zwei Euro zehn Cent

12.



① Das ist Ball.

② Das sind zwei

- A) eins / Bälle B) ein / Bälle
C) der/ Ball D) die / Bälle

13. Wer ist das?




- A) Sie ist Atatürk.
B) Das ist Hakan Şükür.
C) Er ist Elvis Presley.
D) Das ist Atatürk.

14. $12+8= ?$ işleminin sonucu kaçtır?

- A) dreißig B) zwanzig
C) zweiundzwanzig D) zweiundvierzig

1. OTURUM

15.



Yukarıda verilen bilgilerin karşılığı hangi seçenekte doğru sıralanmıştır?

- A) Name / Alter / Wohnort / Beruf
B) Name / Beruf / Wohnort / Alter
C) Alter / Name / Wohnort / Beruf
D) Wohnort / Beruf / Name / Alter

16.



Ali ne yemek ve ne içmek istiyor?

- A) Salat / Wasser B) Pizza / Tee
C) Hamburger / Kaffee D) Fisch / Milch

17. Resimlerin yerine gelecek sözcükler hangi seçenekte doğru olarak sıralanmıştır?


A: Was isst du morgens?

B: Morgens esse ich



- A) Ei, Käse und Brot B) Käse, Brot und Ei
C) Ei, Brot und Käse D) Brot, Käse und Ei

18. Resimlerde gördüğünüz aktiviteler sırasıyla hangi seçenekte verilmiştir?



- A) fernsehen / telefonieren
B) aufstehen / kochen
C) kochen / fernsehen
D) einkaufen / aufräumen

19. Wie Spät ist es?



- A) Es ist halb sieben.
B) Es ist halb sechs.
C) Es ist halb vor sieben.
D) Es ist Viertel nach sieben.

20. Mekan-Aktivite eşleştirmesi hangi seçenekte doğru olarak verilmiştir?

MEKAN	AKTİVİTE
1. Kino	a. schwimmen
2. Disco	b. tanzen
3. Schwimmbad	c. einen Film sehen

A) B) C) D)

1	a
2	b
3	c

1	b
2	c
3	a

1	b
2	a
3	c

1	c
2	b
3	a

1. OTURUM

(607) FRANSIZCA – 6

1-20. sorularda boş bırakılan yere uygun gelen kelime ya da ifadeyi işaretleyiniz.

1. sommes étudiants au lycée.

- A) Tu B) Vous C) Nous D) Elles

2. Ils vontÉtats-Unis.

- A) les B) à l' C) au D) aux

3. âge a-t-elle?

- A) Quel B) Quels C) Quelles D) Quelle

4. Dans les librairies, on vend

- A) de la viande B) du pain
C) des livres D) des gâteaux

5. Hier, ma mère en France.

- A) est allé B) es allé
C) sont allées D) est allée

6. Murat et Aylin sont

- A) comédiennes B) comédienne
C) comédiens D) comédien

7. Jacques regarde télé.

- A) les B) la C) des D) un

8. Elle a de yeux !

- A) beaux B) bel
C) belles D) beau

9. Le frère de mon père est mon

- A) grand-père B) oncle
C) tante D) sœur

10. Il a regardé montre.

- A) sa B) son C) ses D) leurs

11. fleurs sont très belles.

- A) Cette B) Ces C) Ce D) Cet

12. Elle a parler avec vous.

- A) veux B) veut C) vouloir D) voulu

13. Est-ce que tu veux boire jus de fruits?

- A) du B) de l' C) des D) de la

14. Moi, je suis turc et, elles sont françaises.

- A) lui B) elles C) eux D) leur

15. Mon frère est brun, ma sœur est

- A) blonds B) blond
C) blonde D) blondes

16. A : Il mange du poisson?

B : Oui, Il mange.

- A) en B) le C) y D) la

17. A : Comment ça va ?

B :

- A) Bon soir B) Salut
C) Au revoir D) Très bien

1. OTURUM

18. A : ?
B : C'est près de la gare.
- A) Où tu habites B) Tu es d'où
C) Vous venez d'où D) C'est où le musée

19. Pierre : ?
Marie : Je suis de Lyon.
- A) Où vas-tu B) Tu es d'où
C) Qui est-ce D) Tu habites où
20. A : tu ne fais pas tes devoirs?
B : Parce que je suis malade.
- A) Comment B) Quand
C) Où D) Pourquoi

(608) DİN KÜL. VE AHLAK BİLGİSİ – 6

1. Kur'an-ı kerim aşağıdakilerden hangisinin peygamberliğini kesin olarak bildirir?
- A) Hz. Üzeyir B) Hz. Davud
C) Hz. Lokman D) Hz. Zülkarneyn
2. Peygamberlerin günahlardan kaçınmalarına ne denir?
- A) Sıdk B) Tebliğ
C) İsmet D) Fetanet
3. "Ant olsun zamana ki insan gerçekten ziyan içindedir. Ancak iman edip de salih ameller işleyenler, birbirlerine hakkı ve sabrı tavsiye edenler başka."
Anlamı verilen sure aşağıdakilerden hangisidir?
- A) İhlas B) Alak
C) Fatiha D) Asr
4. Aşağıdakilerden hangisi farz namazlardan önce yapılır?
- A) Tesbih B) Kamet
C) Dua D) Sala

5. Beş vakit namazın farzlarının toplam rekat sayısı aşağıdakilerden hangisinde doğru verilmiştir?
- A) 17 B) 23
C) 30 D) 40

6. Ruhumun senden, ilahî, şudur ancak emeli,
Değmesin mabedimin göğsüne nâmahrem eli.
Bu ezanlar ki şehadetleri dinin temeli
Ebedi yurdumun üstünde benim inlemeli.

M. Akif ERSOY

Bu dörtlüğün ana teması aşağıdakilerden hangisidir?

- A) Sevgi ve saygı
B) Şefkat ve merhamet
C) Yiğitlik ve kahramanlık
D) Bağımsızlık ve özgürlük

7. "Allah en büyüktür." anlamına gelen terim aşağıdakilerden hangisidir?

- A) Tekbir B) Kıyam
C) Rükû D) Secde

8. İslam'a çağrının gizli yapıldığı dönemde Müslümanların toplandığı ev aşağıdaki sahabilerden hangisine aittir?

- A) Zeyd b. Harise
B) Osman b. Affan
C) Erkam b. Ebil Erkam
D) Ebu Bekir

9. Hz. Muhammed'in Medinelilere İslamı öğretmesi için gönderdiği sahabi aşağıdakilerden hangisidir?

- A) Hz. Ali
B) Hz. Osman
C) Hz. Usame b. Zeyd
D) Hz. Musab b. Umeyr

1. OTURUM

10. Hz. Aişe anlatıyor: “Bir gece Efendimiz ibadet etmek istediğini söyleyerek yanımdan ayrıldı. Abdest alarak namaz kılmaya başladı. Ağlama sesini duydum. Öyle ki ağlamaktan secde ettiği yer ıslanmıştı...”

Bu olayda, namazın insana kazandırdıklarından hangisine işaret edilmektedir?

- A) Zamanı iyi kullanmaya
- B) Yüce Allah ile samimi bir bağ kurmaya
- C) Aile bireyleri arasındaki dayanışmaya
- D) Birlikte yaşama bilincine

11. Hudeybiye anlaşması için aşağıdakilerden hangisi söylenemez?

- A) Mekkelilerle yapılan anlaşmadır.
- B) Müşriklerle on yıl savaşılmayacağını içerir.
- C) Mekke'nin fethinden sonra gerçekleşmiştir.
- D) Anlaşmanın yapıldığı yıl Müslümanlar Kâbe'yi ziyaret edememişlerdir.

12. Veda hutbesinde aşağıdaki konulardan hangisine değinilmemiştir?

- A) Kan davalarına
- B) Kadın haklarına
- C) Kur'an'a ve sünnete uyulması gerektiğine
- D) İslam öncesi örf-adetlere sahip çıkılmasına

13. Hz. Muhammed'in cenazesini yıkayıp, kefenleyen sahabe aşağıdakilerden hangisidir?

- A) Hz. Ali
- B) Hz. Ömer
- C) Hz. Osman
- D) Hz. Ebu Bekir

14. Kur'an-ı Kerim'deki Hz. Eyüp kıssası aşağıdakilerden hangisine örnektir?

- A) Dayanışma
- B) Tövbe
- C) Sabır
- D) Cömertlik

15. Aşağıdakilerden hangisi Hz. Peygamber tarafından bildirilen munafıklık belirtilerinden biri değildir?

- A) Sır saklama
- B) Yalancılık
- C) Sözünde durmama
- D) Emanete hıyanet etme

16. Bir kimsenin yüzüne karşı söylendiği zaman hoşlanmayacağı kusurlarının arkasından konuşulmasına ne ad verilir?

- A) İftira
- B) Yalan
- C) Kötü zan
- D) Gıybet

17. Aşağıdakilerden hangisi abdesti bozmaz?

- A) Bayılmak
- B) Ağız dolusu kusmak
- C) Namazda başkası duyacak kadar gülmek
- D) Namazda göğsünü kiblede başka yöne çevirmek

18. Ayşe eve geldiğinde çok hırçındı. Annesi hırçınlığının sebebini sordu.

Ayşe: “Öğretmen bugün Zeynep'in resmini birinci seçerek panoya astı!” dedi.

Anlatılan hikayeye göre Ayşe'nin bu tutumu dinimizin sakınmamızı istediği hangi kötü davranışla ifade edilir?

- A) İftira atmak
- B) Alay etmek
- C) Haset etmek
- D) Gıybet etmek

19. Aşağıdakilerden hangisinin Türkler arasında İslamiyet'in yayılmasında etkisi olmamıştır?

- A) Ahi Evran
- B) İmam Malik
- C) Ahmet Yesevi
- D) Hacı Bektaş Veli

20. • Fatih Sultan Mehmet döneminde yaşamıştır.
• İstanbul'da bir rasathane kurmuştur.
• Astronomi alanında eserler yazmıştır.

Hakkında bilgi verilen bilim adamı aşağıdakilerden hangisidir?

- A) İbni Sina
- B) Ali Kuşçu
- C) Farabi
- D) Zemahşeri

1. OTURUM

(701) TÜRKÇE – 7

1. Aşağıdaki cümlelerin hangisinde “tatlı” sözcüğü “acı olmayan, acı karşıtı” anlamında kullanılmıştır?

- A) Bu tatlı salatalıkları çocuklar sevdi.
- B) Bu adam, tatlı ve espriliydi.
- C) Ne tatlı bakıyordu.
- D) Güzel, ince ve tatlı bir bayandı.

2. Aşağıdaki altı çizili sözcüklerden hangisi mecaz anlamıyla kullanılmıştır?

- A) Yeni aldığımız örtüyü masaya serdik.
- B) Bu yaz çok roman okudum.
- C) Okulun yakınında bir ev kiraladı.
- D) Son davranışıyla gözümde yükseldi.

3. “Tavşan dağa küsmüş, dağın haberi olmamış.” Bu atasözü aşağıdaki tutum ve davranışlardan hangisiyle eşleştirilebilir?

- A) Hâlden anlamamak
- B) Umudunu kaybetmemek
- C) Umrunda olmamak
- D) Affetmek

4. Şiirin ne olduğunu elimin erdiği, gücümün yettiği kadar anlatmaya çalıştım.

Bu cümledeki altı çizili deyimın anlamı aşağıdakilerden hangisidir?

- A) Şaşırmak, telaşlanmak
- B) Yapabilmek, ulaşabilmek
- C) Çaresizlik içinde kalmak
- D) Bir işi isteksiz yapmak

5. Bir kimsenin, özellikle tanınmış kişilerin yaşadıkları dönemde gördükleri ya da yaşadıkları ilginç olayları gözlemlerine ve bilgilerine dayanarak anlattıkları yazı türü aşağıdakilerden hangisidir?

- A) Tutanak
- B) Öykü
- C) Söyleşi
- D) Anı

6. Cümleleri söylerken sözcükleri veya harfleri sert, yumuşak, uzun, kısa, alçak ve yüksek gibi değişik seslerle belirtmeye ne denir?

- A) Duraklama
- B) Tonlama
- C) Vurgu
- D) Telaffuz

7. Amacı “Öğrencilerin herhangi bir konudaki duygu, düşünce ve hayallerini sözlü olarak ifade güçlerini geliştirmek” olan konuşma yöntem ve tekniği aşağıdakilerden hangisidir?

- A) Yaratıcı konuşma
- B) Eleştirel konuşma
- C) Serbest konuşma
- D) Katılımlı konuşma

8. Amacı “Dinlenenlerin yorumlanması ve bunlardan yeni düşünceler üretilmesi” olan dinleme yöntem ve tekniği aşağıdakilerden hangisidir?

- A) Yaratıcı dinleme
- B) Seçici dinleme
- C) Empati kurma
- D) Not alarak dinleme

9. Konuyu anlamaya yardımcı olacak anahtar kelime ve kavramlar ile önemli görülen yerlerin belirlenmesidir.

Bu açıklama, aşağıdaki okuma yöntemlerinin hangisine aittir?

- A) Göz atarak okuma
- B) İşaretleyerek okuma
- C) Okuma tiyatrosu
- D) Metinlerle ilişkilendirme

10. Akşam sekize doğru makinesinin başından kalktı, iş önlüğünü çıkardı, ceketini koluna aldı, dükkândan ayrıldı. Köşebaşındaki manava uğrayıp biraz meyve aldı.

Bu parçada aşağıdaki hikâye öğelerinden hangisi yoktur?

- A) Şahıs
- B) Olay
- C) Zaman
- D) Yer

11. “Dil, yiğit elindeki kamçı gibidir.” cümlesindeki söz sanatı aşağıdakilerden hangisidir?

- A) Abartma
- B) Konuşturma
- C) Kişileştirme
- D) Benzetme

1. OTURUM

12. Aşağıdakilerden hangisi iş fiilidir?

- A) Uyu- B) Yeşer-
C) Taşı- D) Uzan-

13. Aşağıdaki cümlelerin hangisinde “gereklilik kipi” kullanılmıştır?

- A) Yarın pikniğe birlikte gidelim.
B) Bu akşam erken yatmalısın.
C) Ellerini kirletme, biraz sonra yemek yiyeceğiz.
D) Film bir an önce bitse de eve gitsek.

14. Aşağıdakilerin hangisinde geniş zaman kipi, gelecek zaman yerine kullanılmıştır?

- A) Keloğlan bir gün pazara gider.
B) İki gün sonra yola çıkıyor.
C) Her hafta sonu burada koşu yapıyor.
D) Bizim kız bu habere çok sevinir.

15. Aşağıdaki kurallı birleşik fiillerden hangisi “yeterlilik” fiilidir?

- A) Küçücük yazıyı uzaktan okuyabildi.
B) Taşlar üstüme düşeyazdı.
C) Damlalar pencereden süzülüverdi.
D) Orada bekleyedurun, geleceğim.

16. Aşağıdakilerden hangisi yapısına göre türemiş fiildir?

- A) Yürü- B) Ateşle-
C) Tara- D) Sakın-

17. Aşağıdakilerin hangisinde fiil, olumsuz soru şeklinde çekimlenmiştir?

- A) Gidecek misiniz B) İzlemeyelim mi
C) Hatırlıyor mu D) Yazmalı mısın

18. Aşağıdaki cümlelerin hangisinde “niteleme zarfı” vardır?

- A) Çocuklar önümde gidiyordu.
B) Renkler içinde en çok maviyi severim.
C) Oğuz Bey az önce evine gitti.
D) Konuyu bize güzel anlatıyorsunuz.

19. Aşağıdaki kelimelerden hangisi yanlış yazılmıştır?

- A) Biraz B) Birkaç
C) Her hangi D) Her şey

20. Bibliyografik künyelerde yazar, eser, basımevi vb. maddelerden sonra hangi noktalama işareti konur?

- A) Virgöl B) İki nokta
C) Ünlem işareti D) Üç nokta

(702) MATEMATİK – 7

1. $6 \cdot [4 + (-2)]$ işleminin sonucu kaçtır?

- A) -48 B) -36 C) 12 D) 24

2. $-\frac{2}{7}, -\frac{13}{8}, \frac{21}{3}, 5\frac{1}{9}$ rasyonel sayılarının küçükten büyüğe doğru sıralanışı aşağıdakilerden hangisidir?

- A) $-\frac{13}{8} < -\frac{2}{7} < 5\frac{1}{9} < \frac{21}{3}$
B) $-\frac{2}{7} < -\frac{13}{8} < \frac{21}{3} < 5\frac{1}{9}$
C) $-\frac{13}{8} < -\frac{2}{7} < \frac{21}{3} < 5\frac{1}{9}$
D) $-\frac{2}{7} < -\frac{13}{8} < 5\frac{1}{9} < \frac{21}{3}$

3. $(-\frac{4}{25}) : (-\frac{1}{10})$ işleminin sonucu kaçtır?

- A) $-\frac{3}{4}$ B) $-\frac{1}{5}$ C) $\frac{3}{10}$ D) $\frac{8}{5}$

4. $\frac{3 + \frac{3}{5}}{1 - \frac{1}{4}} - 3$ işleminin sonucu kaçtır?

- A) $-\frac{7}{5}$ B) $\frac{1}{5}$ C) $\frac{9}{5}$ D) $\frac{31}{5}$

5. Birlikte çalışan aynı nitelikteki 5 biçerdöver, bir tarlayı hiç ara vermeden 3 saatte biçebilmektedir. Bu biçerdöverlerden 3 tanesi, birlikte hiç ara vermeden çalışırsa, bu tarlayı kaç saatte biçer?

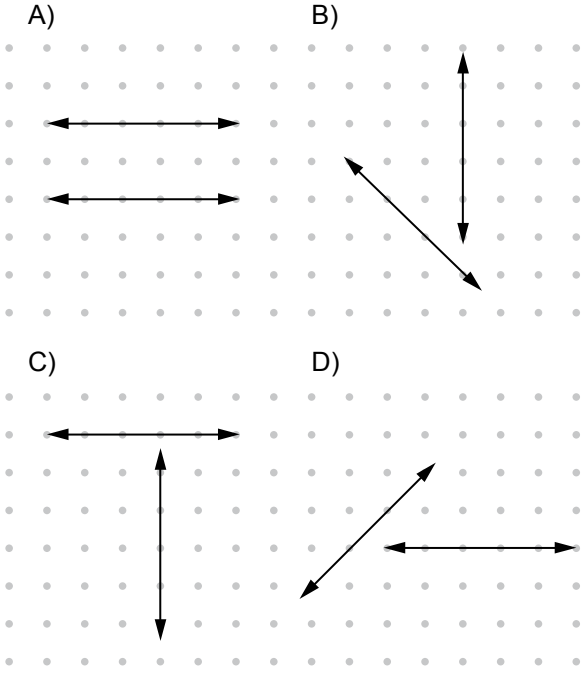
- A) 8 B) 5 C) 4 D) 2

1. OTURUM

6. Bir mağazadaki ayakkabıların satış fiyatları sezon sonunda %20 indirilmiştir. Satışlar azalınca bu ayakkabıların indirimli fiyatlarından tekrar %15 indirim yapılmıştır. Ayakkabıların satış fiyatında yapılan toplam indirim aşağıdakilerden hangisidir?

- A) %32 B) %35 C) %37 D) %38

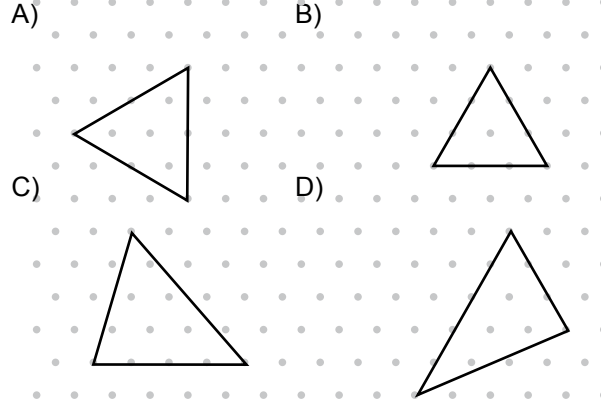
7. Aşağıdakilerden hangisinde doğrular birbirine diktir?



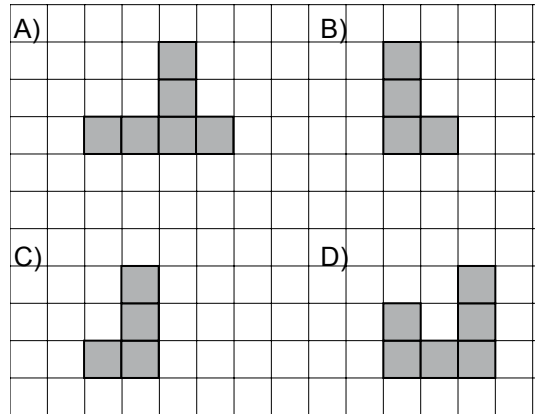
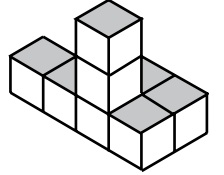
8. Aşağıdakilerden hangisi tüm yamukların ortak bir özelliğidir?

- A) Köşegenleri birbirine eşitir.
B) Bütün kenarları birbirine eşitir.
C) Köşegenleri birbirine diktir.
D) Birbirine paralel bir çift kenara sahiptir.

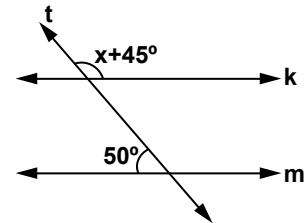
9. Aşağıdakilerden hangisi yanda verilen üçgene eşittir?



10. Aşağıdakilerden hangisi verilen yapının, sağdan, soldan, önden veya arkadan bir görünümü değildir?



11.



Şekilde $k \parallel m$ 'dir. Şekildeki belirtilen açıların ölçülerine göre, x kaç derecedir?

- A) 5 B) 65 C) 85 D) 105

1. OTURUM

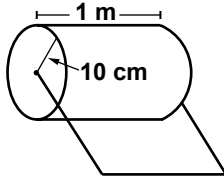
12. Dik kenarlarının uzunlukları 6 cm ve 8 cm olan bir dik üçgenin alanı, bir dikdörtgenin alanına eşittir. Bu dikdörtgenin bir kenar uzunluğu 12 cm olduğuna göre, diğer kenarının uzunluğu kaç santimetredir?

A) 2 B) 4 C) 6 D) 8

13. Yarıçapı 10 cm, merkez açısı 36° olan daire diliminin alanı kaç santimetrekaredir? (π yerine 3 alınız.)

A) 6 B) 30 C) 36 D) 60

- 14.



Yukarıdaki çim ezme silindirin yarıçapı 10 cm, boyu 1 m dir. Bir bahçıvan bu silindiri çim ekili bir bahçede aynı yönde 15 tur sürükledikten sonra duruyor. Bu bahçıvanın silindir ile ezdiği çim yüzeyinin alanı kaç metrekaredir? (π yerine 3 alınız.)

A) 6 B) 9 C) 10 D) 12

15. Tabanının yarıçapı 2 cm ve yüksekliği 6 cm olan silindir biçimindeki bir ilaç kutusunun hacmi kaç santimetreküptür? (π yerine 3 alınız.)

A) 12 B) 36 C) 72 D) 84

16. 4 arkadaş yan yana dizilerek fotoğraf çekecektir. Bu dört arkadaş fotoğrafı kaç farklı dizilişle çekebilir?

A) 24 B) 16 C) 12 D) 8

17. Cemal 4 tanesi mavi, 2 tanesi turuncu renkte olan 24 tane kalemi bir torbaya atıyor.

Torbadan bakmadan çekilen bir kalemin mavi veya turuncu renkte olma olasılığı nedir?

A) $\frac{1}{3}$ B) $\frac{1}{4}$ C) $\frac{1}{6}$ D) $\frac{1}{12}$

- 18.

Tablo: Bazı Öğrencilerin Matematik Dersi Dönem Sonu Notları	
Öğrencinin adı	Dönem sonu notu
Kübra	2
Esra Nur	3
Hatice	4
İbrahim	3
İsa	1
Merve	4
Elif	4
Canan	4
Fatih	3

Yukarıdaki tabloda bazı öğrencilerin matematik dersine ait dönem sonu notları verilmiştir.

Tabloya göre, verilerin tepe değeri kaçtır?

A) 1 B) 2 C) 3 D) 4

19. Aşağıdaki eşitliklerden hangisi doğrudur?

A) $(-2)^3 = -6$ B) $(-5)^2 = -10$
C) $(-1)^3 = 1$ D) $(-3)^2 = 9$

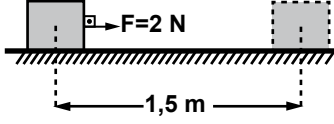
20. Selim'in yaşı Eda'nın yaşının 2 katından 5 eksiktir. Selim ile Eda'nın yaşları toplamı 25 olduğuna göre, Selim Eda'dan kaç yaş büyüktür?

A) 3 B) 5 C) 7 D) 10

1. OTURUM

(703) FEN VE TEKNOLOJİ – 7

1. Ali, şekildeki tahta bloğu 2 N'luk sabit kuvvetle 1,5 m yer değiştiriyor.



Buna göre Ali'nin yaptığı iş kaç J'dür?

- A) 1,5 B) 2 C) 2,5 D) 3

2. Basit makinelerle ilgili;

I- Kuvvetten kazanç sağlanabilir.


II- Yoldan kazanç sağlanabilir.

III- İşten kazanç sağlanabilir.

yargılarından hangileri tek başına doğrudur?

- A) Yalnız I B) I ve II
C) II ve III D) I, II ve III

3. Negatif (-) yüklü elektroskoba, yükü bilinmeyen iletken bir çubuk şekildeki gibi dokunduğunda, elektroskobun yaprakları önce kapanıp daha sonra yeniden açılıyor.



Buna göre, çubuk ve elektroskobun son yük durumları aşağıdakilerin hangisinde doğru verilmiştir?

	Çubuk	Elektroskop
A)	+	+
B)	-	-
C)	+	-
D)	-	+

4. Bir pilin uçları arasındaki elektriksel gerilim (potansiyel fark) aşağıdaki araçlardan hangisi ile ölçülür?

- A) Ampermetre B) Voltmetre
C) Dinamometre D) Termometre

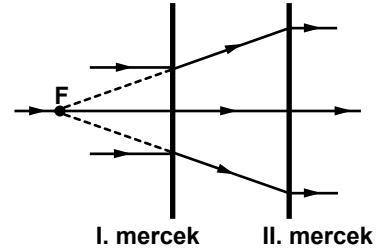
5. Mehmet, su içindeki balığın kendine yakın olduğunu düşünerek elini suya daldırır fakat balığı tutamaz.

Bunun nedeni;

- I- Suyun havadan daha yoğun olması
II- Işık ışınlarının kırılmadan havaya geçmesi
III- Işığın su ve havada aynı hızla yayılması
- ifadelerinden hangileri ile açıklanabilir?

- A) Yalnız I B) I ve II
C) II ve III D) I, II ve III

6. Şekildeki I. merceğe gönderilen paralel ışık demetleri, II. mercekte çıkarken birbirlerine paralel olarak uzaklaşıyor.



F noktası her iki merceğin odak noktası olduğuna göre, merceğin cinsleri aşağıdakilerin hangisinde doğru verilmiştir?

	I. merceğin	II. merceğin
A)	İnce kenarlı	İnce kenarlı
B)	Kalın kenarlı	Kalın kenarlı
C)	Kalın kenarlı	İnce kenarlı
D)	İnce kenarlı	Kalın kenarlı

7. Güneş etrafındaki dönüş süresi en büyük olan gezegen aşağıdakilerden hangisidir?

- A) Merkür B) Dünya
C) Jüpiter D) Uranüs

8. Aşağıdakilerden hangisi galaksiye örnektir?

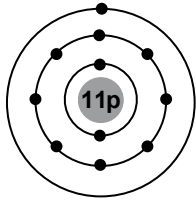
- A) Büyükayı B) Küçükayı
C) Samanyolu D) Çoban yıldızı

1. OTURUM

9. Aşağıda verilen element adı ve element sembolü eşleştirmelerinden hangisi yanlıştır?

Element adı	Element sembolü
A) Helyum	H
B) Oksijen	O
C) Klor	Cl
D) Magnezyum	Mg

10. Sodyum atomunun katman-elektron dizilimi verilmiştir.



Buna göre, sodyum atomunun katman ve elektron sayısı aşağıdakilerin hangisinde doğru verilmiştir?

Katman sayısı	Elektron sayısı
A) 3	1
B) 4	11
C) 3	11
D) 4	1

11. Li^+ iyonu ile ilgili aşağıdakilerden hangisi doğrudur?

- A) Anyondur. B) Elektron almıştır.
C) Nötrdür. D) Katyondur.

12. Karbon dioksitin formülü CO_2 olduğuna göre, bu madde ile ilgili aşağıdakilerden hangisi doğrudur?

- A) Yapısında 3 çeşit element bulunur.
B) Formülündeki atom sayısı 3'tür.
C) Karışımdır.
D) Elementtir.

13. Sütünü soğuk ve şekerli içmeyi seven Zeynep, soğuk sütüne koyduğu toz şekerin daha hızlı çözünmesini istiyor. Bunun için Zeynep aşağıdakilerden hangisini yapmalıdır?

- A) Karıştırmalıdır.
B) Soğuk su eklemelidir.
C) Buzdolabına koymalıdır.
D) Küp şeker kullanmalıdır.

14. Tabloda sindirim organları ve bazı görevleri verilmiştir.

Sindirim Organı	Görevi
Ağız	Karbonhidrat sindirimi
Mide	Protein sindirimi
İnce bağırsak	Yağ, karbonhidrat, protein sindirimi
Kalın bağırsak	Su, vitamin, mineral emilimi

Buna göre, yağların sindiriminde etkili olan "safra salgısı" hangi sindirim organında kullanılır?

- A) İnce bağırsak B) Kalın bağırsak
C) Ağız D) Mide

15. • Böbrekler
• Akciğerler
• Deri
• Kalın bağırsak

Yukarıda bazı organlarımız verilmiştir. Bu organların ortak özelliği nedir?

- A) Hem solunum hem de boşaltım sisteminde görevli olma
B) Vücutta oluşan atık maddelerin dışarı atılmasında etkili olma
C) Sindirilen besinlerin kana geçişinde etkili olma
D) Kandaki zararlı atıkların süzülmesini sağlama

- 16.



Aşağıdakilerden hangisi şekilde verilen iç salgı bezinin salgıladığı hormonlardan biridir?

- A) İnsülin B) Glukagon
C) Tiroksin hormonu D) Büyüme hormonu

1. OTURUM

17.



Resimde gözümüzün bazı kısımları gösterilmiştir. Göze gelen ışınları geçirecek şekilde saydam yapıda olan kornea, gözün hangi kısmının değişimi sonucu oluşur?

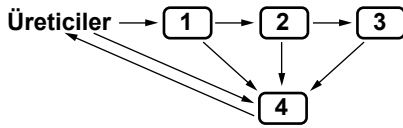
- A) Ağ tabaka B) Göz merceği
C) Sert tabaka D) Damar tabaka

18. ...?... + Cansız çevre = Ekosistem

Yukarıdaki “?” yerine aşağıdakilerden hangisinin yazılması uygun olur?

- A) Habitat B) Tüm popülasyonlar
C) Ayrıştırıcılar D) Otçul hayvanlar

19.



Şekilde bir besin zincirindeki canlılar numaralandırılmıştır. Bu besin zincirinde ayrıştırıcılar kaç numaralı kısımda yer alır?

- A) 1 B) 2 C) 3 D) 4

20. Aşağıdakilerden hangisi hava kirliliğine karşı alınabilecek önlemlerdendir?

- A) Motorlu taşıtların egzozlarına filtre takılması
B) Fosil yakıt kullanımının yaygınlaştırılması
C) Yeşil alanların yerleşim yeri hâline getirilmesi
D) Toplu taşımacılığın azaltılıp otomobillerin artırılması

(806) TC İNK. TAR. VE ATATÜRK. – 8

1. İstanbul Harp Akademisinden kurmay subay olarak mezun olan Mustafa Kemal, stajını yapmak üzere aşağıdaki şehirlerden hangisine atanmıştır?

- A) Şam B) İzmir
C) Hatay D) Samsun

2. Mustafa Kemal aşağıdaki sözlerinden hangisini Çanakkale Savaşı esnasında söylemiştir?

- A) “Ordular! İlk hedefiniz Akdeniz’dir, ileri.”
B) “Siz orada yalnız düşmanı değil, milletin ters talihini de yendiniz.”
C) “Hattı müdafaa yoktur, sathı müdafaa vardır. O satıh bütün vatandır. Vatanın her karış toprağı vatandaşın kanıyla sulanmadıkça terk edilemez.”
D) “Ben, size taarruz emretmiyorum, ölmeyi emrediyorum. Biz ölünceye kadar geçecek zaman içinde yerimize başka kuvvetler ve komutanlar gelebilir.”

3. Eskişehir-Kütahya Savaşları’nda Yunanlıların Ankara’ya doğru ilerlemesi üzerine Mustafa Kemal, Meclis tarafından başkomutanlık görevine getirilmiştir. Başkomutan olarak yaptığı ilk konuşmasında: “Milletimizi esir etmek isteyen düşmanları, ne yapıp edip yeneceğimize dair güvenim bir dakika olsun sarsılmamıştır.” ifadesini kullanmıştır.

Mustafa Kemal’in bu sözü, onun kişilik özelliklerinden hangisiyle ilişkilendirilmelidir?

- A) Kararlılığıyla B) Çalışkanlığıyla
C) İyi kalpliliğiyle D) Çok cepheliliğiyle

4. Birinci Dünya Savaşı’nın çıkmasında etkili olan en önemli neden, aşağıdakilerden hangisidir?

- A) Avrupalı devletlerin birbirlerine karşı silahlanması.
B) İngiltere’nin Rusya’yı Balkanlar’da serbest bırakması.
C) İngiltere ile Almanya arasındaki ekonomik rekabetin hızlanması.
D) Fransa’nın Alsas Loren Bölgesi’ni Almanya’dan geri almak istemesi.

1. OTURUM

5. 18 Ocak 1919 tarihli Paris Barış Konferansı'nda, İtilaf Devletleri'nin kendi aralarında ilk anlaşmazlığa düşmesine sebep olan gelişme, aşağıdakilerden hangisidir?

- A) Adana ve çevresinin Fransa'ya bırakılması.
- B) Boğazların İngilizlerce işgal edilecek olması.
- C) Rusya'nın Birinci Dünya Savaşı'ndan çekilmesi.
- D) İzmir ve çevresinin Yunanistan'a verilmesinin kararlaştırılması.

6. 2005 yılında Dünya Ortak Miras listesinde yer alan Mostar Köprüsü, bugün hangi ülkenin sınırları içinde yer almaktadır?

- A) Sırbistan
- B) Bosna Hersek
- C) Arnavutluk
- D) Bulgaristan

7. Kuvayimilliyeye güçleri ile düşmanın yurttan atılamayacağını anlaşılmaya başlanması üzerine, düzenli ordunun kurulmasına karar verilmiştir.

Bu kararın alındığı yer aşağıdakilerden hangisidir?

- A) Sivas Kongresi
- B) Amasya Genelgesi
- C) Türkiye Büyük Millet Meclisi
- D) Son Osmanlı Mebuslar Meclisi

8. Aşağıdakilerden hangisi Birinci İnönü Savaşı'nın sonuçlarından biri değildir?

- A) Millet'in TBMM ve orduya güveni artmıştır.
- B) İtilaf Devletleri Londra'da konferans düzenlemek zorunda kalmışlardır.
- C) Mustafa Kemal'e üç ay süreyle Meclisin yetkileri verilmiştir.
- D) Bu zaferden sonra Sovyet Rusya ile Moskova Antlaşması imzalanmıştır.

9. İstiklal Marşı'nın TBMM'de millî marş olarak kabul edildiği tarih, aşağıdakilerden hangisidir?

- A) 13 Aralık 1920
- B) 12 Mart 1921
- C) 10 Temmuz 1922
- D) 29 Ekim 1923

10. Aşağıdaki eserlerden hangisi Kurtuluş Savaşı Dönemi'ni anlatan bir romandır?

- A) Küçük Ağa
- B) Devlet Ana
- C) İnce Memed
- D) Bir Düşün Gecesi

11. Aşağıdakilerden hangisi Sakarya Meydan Savaşı'nın sonuçlarından biri değildir?

- A) Düşman savunmaya geçmiştir.
- B) İtalyanlar Anadolu'dan tamamen çekilmiştir.
- C) TBMM Anadolu'da kesin egemenlik sağlamıştır.
- D) İstanbul ve Boğazlar savaş yapılmadan kurtarılmıştır.

12. Aşağıdakilerden hangisi Lozan Barış Antlaşması'nın maddelerinden biri değildir?

- A) Türk-Yunan sınırı Meriç Nehri olacaktır.
- B) Yunanistan, Türkiye'ye savaş tazminatı olarak Karaağaç'ı verecektir.
- C) Ülkede yaşayan bütün gayrimüslimler Türk vatandaşı kabul edilecektir.
- D) Doğu Anadolu'da iki yeni devlet kurulacaktır.

13. Yeni kurulan Türkiye Cumhuriyeti Devleti, kendi karasuları içinde kalan millî deniz çevresini kullanma ya da kullandırma hakkını aşağıdaki kanunların hangisi ile elde etmiştir?

- A) Kabotaj
- B) Takrir-i Sükûn
- C) Tevhid-i Tedrisat
- D) Teşvik-i Sanayi

14. Mondros Ateşkes Antlaşması'ndan sonra başlatılan Kurtuluş Savaşı milliyetçilik fikrinin ürünüydü. "...?" parolasıyla başlatılan Millî Mücadele, millî egemenliğe dayalı yeni bir devlet kurmayı amaçlıyordu.

"?" ile verilen boşluğa aşağıdaki sözlerden hangisi yazılmalıdır?

- A) Geldikleri gibi giderler.
- B) Ya istiklâl ya ölüm.
- C) Yurtta sulh, cihanda sulh.
- D) Egemenlik, kayıtsız şartsız milletindir.

1. OTURUM

15. Din ve devlet işlerinin birbirinden ayrılması, dinî inançların devlet yönetiminde ve siyasette rol oynamaması olarak da ifade edilebilen Atatürk ilkesi, aşağıdakilerden hangisidir?

- A) Laiklik
B) Halkçılık
C) Devletçilik
D) Milliyetçilik

16. • Musul, Irak Hükûmetine bırakıldı.
• Irak'a ait petrol vergi gelirlerinin % 10'unun 25 yıl süreyle Türkiye'ye verilmesi kararlaştırıldı.

Bu hükümler, aşağıdakilerden hangisinin maddelerindedir?

- A) Sadabat Pakti'nin
B) Gümrü Antlaşması'nın
C) Londra Konferansı'nın
D) Ankara Antlaşması'nın

17. Balkanlar ve Orta Doğu'ya yönelik izledikleri yayılmacı politikalar nedeniyle, Balkan Antanti'nin imzalanmasına neden olan devletler aşağıdakilerden hangisidir?

- A) İngiltere - Rusya
B) Almanya - İtalya
C) Fransa - Almanya
D) İtalya - İngiltere

18. Birleşmiş Milletlerin kuruluş yılı aşağıdakilerden hangisidir?

- A) 1932
B) 1940
C) 1945
D) 1950

19. Aşağıdakilerden hangisi Son Osmanlı Mebuslar Meclisinde kabul edilen, Mısakımillî'nin kararlarından biri değildir?

- A) Kapitülasyonlar kaldırılmalıdır.
B) Batı Trakya'da halkoylaması yapılmalıdır.
C) Ankara'da geçici bir hükümet kurulmalıdır.
D) İstanbul ve Marmara her türlü tehlikeden korunmalıdır.

20. Kuzey Kıbrıs Türk Cumhuriyeti, kaç yılında kurulmuştur?

- A) 1969
B) 1974
C) 1980
D) 1983

(807) İNGİLİZCE – 8

1-20. sorularda boş bırakılan yere uygun gelen kelime ya da ifadeyi işaretleyiniz.

1. The mountain is too high

- A) climbing
B) to climb
C) climbed
D) climb

2. Would you mind on the air- conditioner?

- A) to turn
B) turned
C) turning
D) turn

3. These flowers every day.

- A) are watered
B) to water
C) watered
D) water

4. Kocatepe Mosque will be

- A) learnt
B) answered
C) taken
D) visited

5. Why are you smelling these flowers? They don't good.

- A) think
B) feel
C) smell
D) taste

6. Which would you, apple or orange?

- A) prefer
B) need
C) must
D) shall

7. This car isn't cheap for me to buy.

- A) too
B) very
C) much
D) enough

8. There is a of match.

- A) loaf
B) box
C) bar
D) tin

9. There isn't water in the glass.

- A) a
B) an
C) any
D) some

1. OTURUM

10. You can have chicken or fish for dinner.
A) so B) nor C) neither D) either
11. I haven't seen my uncle twenty years.
A) never B) for C) yet D) just
12. The man wrote this book is an English teacher.
A) who B) which C) where D) whose
13. Judy, I met last year, is in hospital.
A) why B) whom C) what D) which
14. Mathematics is the most subject.
A) delicious B) comfortable
C) difficult D) crowded
15. I didn't see Ali
A) last week B) next month
C) tomorrow D) at the moment
16. If she this again, the teacher angry.
A) will do / would get B) would do / get
C) does / will get D) did / gets
17. What from 10 to 11 last night?
A) do you do B) are you doing
C) have you done D) were you doing
18. This is the first time
A) we will go to İstanbul tomorrow.
B) I have ever seen a horror film.
C) she is washing the dishes now.
D) he bought a new car yesterday.

19. A: are the lemons?
B: They are ₺1 each.
A) How far B) How many
C) How much D) What size
20. A: I'm very thirsty.
B:
A) You should drink some water.
B) You should go to the doctor.
C) You should buy a new car.
D) You should visit Italy.

(807) ALMANCA – 8

1-20. sorularda boş bırakılan yere uygun gelen kelime ya da ifadeyi işaretleyiniz.

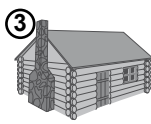


1. A: Wie geht es deinem Bruder?
B: Es geht gut.
A) ihr B) ihm C) Ihnen D) mir
2. A: Was suchst du?
B: Ich suche Brief. (der Brief)
A) der B) dem C) das D) den
3. A: Wem gehört die Tasche?
B: Die Tasche gehört (ich)
A) ihr B) ihm C) Ihnen D) mir
4. Ich gehe zum Arzt, ich krank bin.
A) ob B) was C) wenn D) wann
5. Er freut über das Geschenk.
A) sich B) mich C) euch D) dir
6. Ich in die Schule. (Präteritum)
A) gehe B) ging
C) gegangen D) gehst

1. OTURUM

7. Mein Vater sich ein Auto kaufen.
(Präteritum)

- A) will B) wollen C) wollte D) willst

8.
①



- ① Das Haus ist klein.
② Das Haus ist
③ Das Haus ist am kleinsten.

- A) kleinsten B) größten
C) kleiner D) klein

9. Unser Lehrer hat es uns erlaubt. Wir
Musik hören.

- A) dürfen B) musst
C) darf D) müssen

10. Die alte Frau kommt, ist meine Oma.

- A) der B) die C) das D) dem

11. Resimde gördüğünüz aktiviteyi işaretleyiniz.



- A) schwimmen B) tanzen
C) lesen D) Rad fahren

12. A: Wohin gehst du?
B: Ich gehe Hause.

- A) in B) zu C) nach D) auf

13.



A: Wo ist das Mädchen?

B: Sie ist Bett.

- A) vor das B) vor dem
C) über dem D) unter das

14.



Der Schlüssel, auf dem Tisch liegt,
gehört mir.

- A) der B) das C) den D) die

15. Wohin deine Eltern in den Ferien?

- A) fährst B) fahre
C) fährt D) fahren

16. A: Geht Gisela nach Paris?

B: Nein, sie geht nach Paris.

Sie geht die Türkei.

- A) in / nach B) nicht / nach
C) nicht / in D) in / nicht

17. Wir trinken gern Mineralwasser.

- A) einen B) ein C) eine D) eins

18. Eure Kinder sollten Obst essen.

- A) frisches B) frische
C) frischer D) frischen

1. OTURUM

19. Der Lehrer korrigiert den Text Schüler-..... .

- A) des / -s B) der / -s
C) die / -s D) dem / -s

20. Die klein-..... Kinder gehen in den Zoo.

- A) -er B) -es C) -e D) -en

(807) FRANSIZCA – 8

1-20. sorularda boş bırakılan yere uygun gelen kelime ya da ifadeyi işaretleyiniz.

1. Le nombre des phoques 50000 en 1988 mais aujourd'hui il 5000.

- A) était/étaient B) est/était
C) était/est D) sont/était

2. Sylvie a livres que son frère.

- A) plus B) mieux
C) pire D) autant de

3. Il a fait ses exercices la télé.

- A) regarder B) en regardant
C) regardent D) regardé

4. Quand ma sœur est rentrée, je (j') de la musique.

- A) a écouté B) écoute
C) écoutais D) écouterai

5. La pharmacie est à de l'hôpital.

- A) face B) côté C) derrière D) entre

6. Demain notre équipe va États-Unis.

- A) aux B) au C) à la D) où

7. Laure est sportive que Jasmine.

- A) la moindre B) mieux
C) plus D) le pire

8. Demain, elle partira Paris.

- A) sur B) du C) pour D) au

9. Pour aller à la poste, le pont, elle est la première rue à gauche.

- A) traversez B) traversé
C) a traversé D) traversent

10. Demain je à İstanbul.

- A) sera B) seraient C) soit D) serai

11. Mon père cuisine ma mère.

- A) autant de B) moindre
C) plus D) mieux que

12. est votre numéro ?

- A) Quelle B) Quelles
C) Quel D) Quels

13. Le mois je suis né, c'est juillet.

- A) qui B) quel C) qui D) où

14. Lui, il lève à 7 heures.

- A) toi B) se C) moi D) votre

15. Tu veux cette chemise-ci et je veux

- A) celle-là B) celui-ci
C) ceux-ci D) ceux-là

1. OTURUM

16. Hier, vous à la campagne?

- A) allé B) êtes allés
C) soyez allés D) irez

17. Cette étudiante est la plus de la classe.

- A) impatient B) impatiente
C) impatientes D) impatients

18. marchait sous la pluie.

- A) Il B) Vous C) Elles D) Nous

19. Mon cousin a mal au.....

- A) yeux B) jambes C) tête D) nez

20. Le médecin dit à Fabienne : "Ouvre ta bouche."

Le médecin dit à Fabienne d'..... sa bouche.

- A) ouvres B) ouvrir
C) ouvrez D) ouvre

(808) DİN KÜL. VE AHLAK BİLGİSİ – 8

1. "Kim doğru yolu seçerse bunu ancak kendi iyiliği için seçmiş olur, kim de doğruluktan saparsa kendi zararına sapmış olur..."
(İsra Suresi, 15. ayet)

Bu ayette aşağıdakilerden hangisi vurgulanmaktadır?

- A) Özgürlük B) Kaza
C) Merhamet D) Tevekkül

2. "Allah'a dayandım!" diye sen çıkma yataktan... Ma'nayı tevekkül bu mudur? Hey gidi nadan! Ecdadını, zannetme, asırlarca uyurdu; Nerden bulacaktın o zaman eldeki yurdu?

M. Akif ERSOY

Şair bu dörtlükte tevekkülle ilgili aşağıdakilerden hangisine dikkat çekmiştir?

- A) Atalarımız tarafından yanlış anlaşıldığına
B) Sadece duadan ibaret olduğuna
C) Çaba ve gayretle beraber olması gerektiğine
D) Tedbir almanın tevekküle aykırı olduğuna

3. Aşağıdakilerden hangisi zekat verecek kişide bulunması gereken şartlardan biri değildir?

- A) Erkek olmak B) Akıllı olmak
C) Zengin olmak D) Ergen olmak

4. Hacerü'l-Esvet'ten başlayarak, Kâbe'nin etrafında yedi defa dönmeye ne denir?

- A) Şavt B) Tavaf C) Mikat D) Sa'y

5. Adak kurbanından aşağıdakilerden hangisi yiyebilir?

- A) Baba B) Torun C) Çocuk D) Kardeş

6. Aşağıdaki ibadetlerden hangisi İslam'ın paylaşma ve yardımlaşmaya verdiği öneme örnek olmaz?

- A) Zekat vermek B) Kurban kesmek
C) Namaz kılmak D) Fıtır sadakası vermek

7. Aşağıdaki mekanlardan hangisi Mekke'dedir?

- A) Mescid-i Nebi B) Cennetü'l-Baki
C) Uhud şehitliği D) Mescidü'l-Haram

8. "Ya öğreten ya öğrenen ya dinleyen ya da bunları seven ol. Fakat sakın beşincisi olma helak olursun."

(Hadis-i Şerif)

Bu hadiste aşağıdakilerden hangisi teşvik edilmektedir?

- A) İman B) İlim C) İbadet D) Adalet

9. • Mekkelilerin, Kâbe hakemliğini memnuniyetle karşılaması.

- Hz. Hatice'nin kendisine ticarete çalışma teklif etmesi.
• Safa tepesinde Kureyş'in "Evet, sana inanırız" demesi

Verilen bilgiler Hz. Muhammed'in hangi özelliğini ön plana çıkarmaktadır?

- A) Güvenilirliğini B) Zekiliğini
C) Affediciliğini D) Cesaretini

1. OTURUM

10. Adamın biri, Hz. Muhammed'i kucağında bir çocuğu öperken gördü ve hayretle; "Benim on tane çocuğum var ama hiçbirini öpmedim." dedi. Bunun üzerine Peygamberimiz kendisine: "....." demiştir.

Aşağıdakilerden hangisi Hz. Muhammed'in adama verdiği cevaptır?

- A) Çocuklarını sev ki onlar da seni sevsin.
- B) Kalbinde merhamet kalmamışsa ben ne yapayım
- C) "Allah'tan korkun ve çocuklarınız arasında adaleti gözetin."
- D) "Hiçbir ana-baba çocuğuna güzel ahlaktan daha değerli birşey bırakmaz."

11. Aşağıdaki ayetlerden hangisi zamanın değerlendirilmesinden bahsetmektedir?

- A) "Emrolunduğun gibi dosdoğru ol ..."
(Hud suresi, 112. ayet)
- B) "Boş kaldın mı hemen başka bir işe koyul."
(İnşirah suresi, 7. ayet)
- C) "Onlar, kendilerine emanet edileni korur, verdikleri sözü yerine getirirler..."
(Meariç suresi, 32. ayet)
- D) "Kim zerre miktar hayır işlemişse onu görür..."
(Zilzal suresi, 7. ayet)

12. Aşağıdakilerden hangisi taassubun oluşmasında etkili değildir?

- A) Bağnazlık
- B) Kendini beğenmek
- C) Ön yargılı olmak
- D) Bilgiye önem vermek

13. • Kardeşleri tarafından kıskanılmıştır.

- Mısır da devlet idaresinde görev almıştır.
- Rüyaları yorumlama ilmine sahiptir.

Hakında bilgi verilen peygamber aşağıdakilerden hangisidir?

- A) Hz. Yusuf
- B) Hz. Yakub
- C) Hz. Harun
- D) Hz. Musa

14. Aşağıdakilerden hangisi İslam'ın şartlarından değildir?

- A) Hac
- B) Kurban
- C) Oruç
- D) Zekat

15. Hz. İsa ile ilgili aşağıdakilerden hangisi yanlıştır?

- A) Annesi Hz. Meryem'dir.
- B) Filistin'de dünyaya gelmiştir.
- C) Yirmi yaşında peygamber olmuştur.
- D) Kendisine inanan oniki kişiye "havarî" denilmiştir.

16. Yahudilikteki günlük ibadet zamanları ile ilgili aşağıdakilerden hangisi doğrudur?

- A) Sadece sabah yapılır.
- B) Sadece akşam yapılır.
- C) Sabah ve akşam yapılır.
- D) Sabah, öğle ve akşam yapılır.

17. "İman etmedikçe cennete giremezsiniz. Birbirinizi de iman etmiş sayılmazsınız."

Bu hadiste boş bırakılan yere aşağıdakilerden hangisi getirilmelidir?

- A) Desteklemedikçe
- B) Sevmedikçe
- C) Gözetmedikçe
- D) Hoşgörmedikçe

18. Aşağıdakilerden hangisi ilahî dinlerden biridir?

- A) Hinduizm
- B) Budizm
- C) Yahudilik
- D) Konfüçyanizm

19. "Şüphesiz Allah, adaleti, iyilik yapmayı, yakınlara yardım etmeyi emreder; hayasızlığı, fenalık ve azgınlığı da yasaklar. O, düşünüp tutasınız diye size öğüt veriyor."

(Nahl suresi, 90. ayet)

Aşağıdakilerden hangisi bu ayetin dikkat çektiği konulardan değildir?

- A) Maddi temizlik
- B) Doğruluk
- C) Dayanışma
- D) Ahlak

20. Aşağıdakilerden hangisi insanı kötü alışkanlıklara götüren sebepler arasında yer almaz?

- A) Arkadaş çevresi
- B) Eğitim yetersizliği
- C) Kendini kabul ettirme duygusu
- D) Ahlaki ve dini değerleri benimseme

TEST BİTTİ.

CEVAPLARINIZI KONTROL EDİNİZ.

SINAV SÜRESİNCE UYULACAK KURALLAR

1. Adaylar, sınav kurallarına ve salon görevlilerinin tüm uyarılarına uymak zorundadırlar. Kurallara ve uyarılara uymayan adayların sınavları geçersiz sayılacaktır.
2. Sınav başladıktan sonra adayların salon görevlileri ve birbirleri ile konuşmaları, kalem, silgi vb. şeyleri istemeleri yasaktır.
3. Adaylar sınav süresince, sınav giriş belgesi ile birlikte kimlik belgelerinden birini (nüfus cüzdanı, pasaport veya sürücü belgesi) masalarının üzerinde bulundurmamak zorundadırlar.
4. Sınav evraklarını teslim etmeyen, soru kitapçıklarının sayfalarından bir kısmını eksik teslim edenlerin sınavları geçersiz sayılacaktır.

SALON GÖREVLİLERİNCE SINAV BAŞLAMADAN ÖNCE ADAYLARA YAPILACAK SON UYARI

- Soracağınız bir şey var mı? Varsa, şimdi sorunuz.
- Sınav başladıktan sonra sorularınıza cevap verilmeyecektir.
- Başlama zilini bekleyiniz.
- Hepinize başarılar dileriz.

(Salon başkanı başlama ve bitiş saatini tahtaya yazacaktır.)

Bu kitapçığın her hakkı saklıdır. Hangi amaçla olursa olsun, kitapçığın tamamının veya bir kısmının Millî Eğitim Bakanlığı Ölçme, Değerlendirme ve Sınav Hizmetleri Genel Müdürlüğünün yazılı izni olmadan kopya edilmesi, fotoğraflarının çekilmesi, bilgisayar ortamına alınması, herhangi bir yolla çoğaltılması, yayımlanması veya başka bir amaçla kullanılması yasaktır. Bu yasağa uymayanlar, doğabilecek cezai sorumluluğu ve kitapçığın hazırlanmasındaki mali külfeti peşinen kabullenmiş sayılır.

**15 HAZİRAN 2014 TARİHİNDE YAPILAN
AÇIK ÖĞRETİM ORTAOKULU 2013-2014 ÖĞRETİM YILI 2. DÖNEM SINAVI
1. OTURUM CEVAP ANAHTARI**

TÜRKÇE – 7

1. A
2. D
3. C
4. B
5. D
6. B
7. C
8. A
9. B
10. A
11. D
12. C
13. B
14. D
15. A
16. B
17. B
18. D
19. C
20. A

FEN ve TEKNOLOJİ – 7

1. D
2. B
3. A
4. B
5. A
6. C
7. D
8. C
9. A
10. C
11. D
12. B
13. A
14. A
15. B
16. D
17. C
18. B
19. D
20. A

İNGİLİZCE – 8

1. B
2. C
3. A
4. D
5. C
6. A
7. D
8. B
9. C
10. D
11. B
12. A
13. B
14. C
15. A
16. C
17. D
18. B
19. C
20. A

FRANSIZCA – 8

1. C
2. D
3. B
4. C
5. B
6. A
7. C
8. C
9. A
10. D
11. D
12. C
13. D
14. B
15. A
16. B
17. B
18. A
19. D
20. B

MATEMATİK – 7

1. C
2. A
3. D
4. C
5. B
6. A
7. C
8. D
9. A
10. D
11. C
12. A
13. B
14. B
15. C
16. A
17. B
18. D
19. D
20. B

TC İNK. TAR. VE ATA. – 8

1. A
2. D
3. A
4. C
5. D
6. B
7. C
8. C
9. B
10. A
11. D
12. D
13. A
14. B
15. A
16. D
17. B
18. C
19. C
20. D

ALMANCA – 8

1. B
2. D
3. D
4. C
5. A
6. B
7. C
8. C
9. A
10. B
11. D
12. C
13. B
14. A
15. D
16. C
17. B
18. A
19. A
20. D

**DİN KÜLTÜRÜ ve AHLAK
BİLGİSİ – 8**

1. A
2. C
3. A
4. B
5. D
6. C
7. D
8. B
9. A
10. B
11. B
12. D
13. A
14. B
15. C
16. D
17. B
18. C
19. A
20. D

**15 HAZİRAN 2014 TARİHİNDE YAPILAN
AÇIK ÖĞRETİM ORTAOKULU 2013-2014 ÖĞRETİM YILI 2. DÖNEM SINAVI
1. OTURUM CEVAP ANAHTARI**

TÜRKÇE – 5

1. D
2. C
3. A
4. B
5. A
6. B
7. C
8. A
9. B
10. D
11. B
12. A
13. C
14. D
15. B
16. B
17. C
18. C
19. D
20. A

FEN ve TEKNOLOJİ – 5

1. C
2. D
3. B
4. A
5. A
6. B
7. C
8. D
9. B
10. D
11. B
12. C
13. A
14. C
15. A
16. D
17. B
18. C
19. A
20. B

İNGİLİZCE – 6

1. C
2. D
3. C
4. A
5. B
6. A
7. C
8. D
9. A
10. B
11. D
12. C
13. A
14. D
15. B
16. C
17. A
18. D
19. A
20. B

FRANSIZCA – 6

1. C
2. D
3. A
4. C
5. D
6. C
7. B
8. A
9. B
10. A
11. B
12. D
13. A
14. B
15. C
16. A
17. D
18. D
19. B
20. D

MATEMATİK – 5

1. C
2. D
3. D
4. C
5. B
6. D
7. A
8. A
9. D
10. D
11. A
12. C
13. B
14. B
15. A
16. C
17. B
18. A
19. C
20. B

SOSYAL BİLGİLER – 6

1. C
2. D
3. A
4. B
5. D
6. A
7. D
8. A
9. B
10. C
11. B
12. D
13. C
14. A
15. A
16. B
17. D
18. A
19. B
20. C

ALMANCA – 6

1. A
2. D
3. C
4. B
5. A
6. D
7. C
8. C
9. A
10. B
11. D
12. B
13. D
14. B
15. A
16. B
17. C
18. C
19. A
20. D

**DİN KÜLTÜRÜ ve AHLAK
BİLGİSİ – 6**

1. B
2. C
3. D
4. B
5. A
6. D
7. A
8. C
9. D
10. B
11. C
12. D
13. A
14. C
15. A
16. D
17. D
18. C
19. B
20. B